



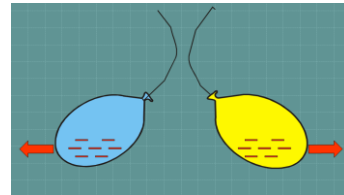
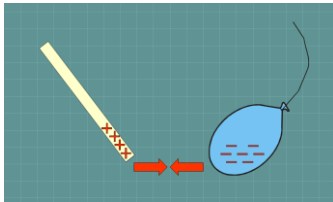
Ηλεκτρισμός

Όνομα: _____

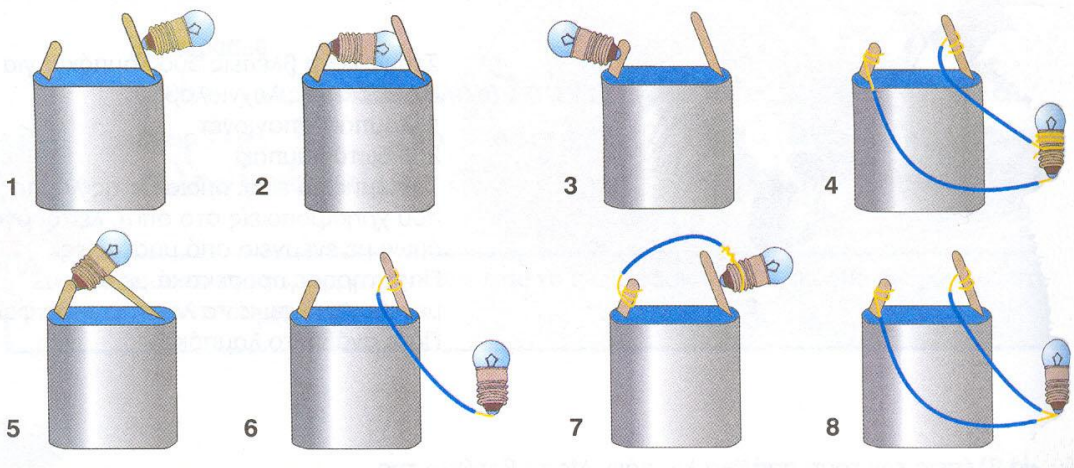
1. Να συμπληρώσεις τα κενά στις παρακάτω προτάσεις

- Υπάρχουν 2 είδη φορτίων:
Το _____ φορτίο των _____
Το _____ φορτίο των _____
- Όταν προσθέτουμε ηλεκτρικό ρεύμα σε ένα σώμα τότε φορτίζεται _____
- Όταν αφαιρούμε ηλεκτρικό ρεύμα σε ένα σώμα τότε φορτίζεται _____

2. Πότε δύο σώματα έλκονται και πότε απωθούνται;





3. Κύκλωσε τις περιπτώσεις που ανάβει το λαμπάκι



4. Τι είναι ηλεκτρικό ρεύμα;

5. Ποια είναι τα βασικά στοιχεία ενός ηλεκτρικού κυκλώματος; Σχεδιάσε ένα κύκλωμα με παράλληλη σύνδεση και ένα με απλή



6. Από τι λαβές πρέπει να κατασκευάζονται τα εργαλεία του ηλεκτρολόγου και γιατί;



7. Να σημειώσεις τους αγωγούς στο παρακάτω κλειστό κύκλωμα

